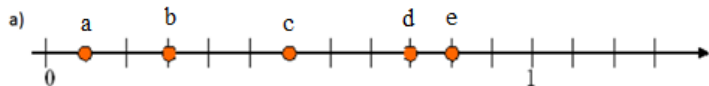
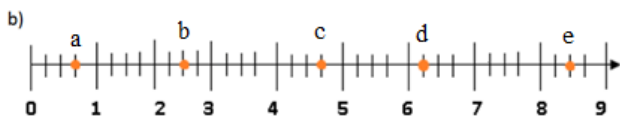


Karta pracy – Ułamki zwykłe cz.2

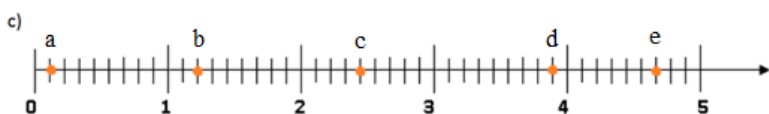
Zad.1. Niżej przedstawiono osie liczbowe, na których zaznaczone zostały pewne punkty. Jakim liczbom odpowiadają te punkty?



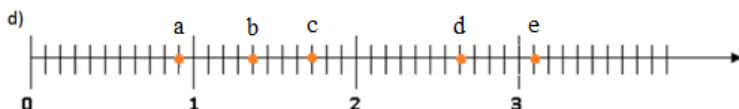
a) a = b = c = d = e =



b) a = b = c = d = e =



c) a = b = c = d = e =



d) a = b = c = d = e =

Zad.2. Ile zamalowano na poniższych rysunkach kwadratów, ile kół, ile prostokątów, a ile trójkątów? Wpisz odpowiednią liczbę w okienko obok figur.









Zad.3. Wyraż za pomocą ułamków lub liczb mieszanych?

a) 4 mm = cm

d) 9 g = dag

5 cm 6 mm = cm

6 dag 5 g = dag

b) 67 cm = m

e) 35 dag = kg

3 m 15 cm = m

1 kg 7 dag = Kg

c) 125 m = km

f) 344kg = t

2 km 45 m = km

7 t 9 kg = t

Zad.4. Wpisz w okienka odpowiednie ułamki lub liczby mieszane.

a) 4 doby to tygodnia

b) 14 minut to godziny

3 tygodnie i 6 dób to tygodnia

7 godzin i 36 minut to godziny